



Colegio Valentín Letelier
Balmaceda 3680
La Serena

Profesora: Georgina Díaz
Asignatura: Historia

GUIA DE HISTORIA, GEOGRAFIA Y CIENCIAS SOCIALES

Unidad: I unidad

Subsector: Historia

Nivel: Básico

Objetivo de Aprendizaje: : Ubicar lugares en un mapa, utilizando coordenadas geográficas como referencia (paralelos y meridianos). (OA 6)

Objetivo : Recordar ubicación en un plano de personas y elementos y reconocer la ubicación geográfica

Nombre: _____ **Curso:** _____ **Fecha:** _____

Instrucciones: Lee atentamente esta guía, respóndela, pégala en tu cuaderno o archívala en tu carpeta. No olvides que es importante trabajar bien para que no olvides lo aprendido

1.- Sigue las instrucciones

- En la cuadrícula completa la Rosa de los Vientos, escribiendo los puntos cardinales en las líneas.

- En la cuadrícula, dibuja donde correspondan los símbolos que representan los siguientes

Elementos

• Casa (B, 5) • Hospital (F, 2) • Iglesia (D, 6) • Restaurante (A, 3)

• Panadería (E, 1) • Colegio (B, 4) • Plaza (F, 3) • Cancha fútbol (E, 4) elementos :

	A	B	C	D	E	F	
1							Plaza
2							Casa
3							Panadería
4							Colegio
5							Hospital
6							Cancha de fútbol
							Restaurante
							Iglesia

3.-Encuentra los siguientes símbolos en la cuadrícula y registra sus coordenadas. Sigue el ejemplo.



A,1


















4.- ENCUESTRA EL TESORO

Guíate por las instrucciones para encontrar el tesoro. Pinta los cuadros a medida que vayas avanzando.



Instrucciones

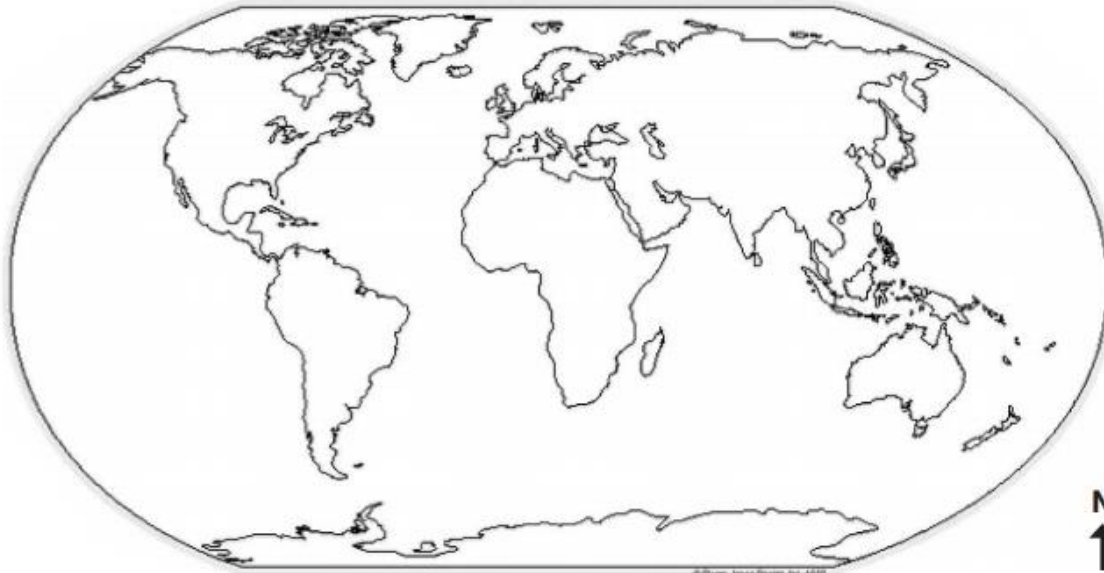
- Empieza en el donde dice Partida.
- Avanza 3 hacia el este.
- Avanza 2 hacia el sur.
- Avanza 4 hacia el oeste.
- Avanza 3 hacia el sur.
- Avanza 5 hacia el este.
- Avanza 1 hacia el norte y dibuja ahí el tesoro.

¡Felicitaciones! ¡Lo encontraste!



5 Observa el mapamundi y responde:


-Ubica los continentes y océanos en el mapamundi o _____



- ¿En qué continente vives tú? Píntalo rojo.
- ¿Cuál es el océano más grande? _____ Escribe su nombre donde corresponde.
- ¿Qué continente está al este de Europa? _____ Píntalo verde.
- ¿Cómo se llama el continente blanco? Escribe su nombre donde corresponde.
- Ubica Australia. Píntala amarilla. ¿En qué continente se encuentra? _____
- ¿En qué continente se encuentra Grecia? _____ Píntala café.
- ¿En qué continente están las pirámides de Egipto? _____ Pinta el continente morado.
- Pinta azul el océano Glaciar Ártico. ¿Qué continentes bordea? _____

- ¿Qué océano debes cruzar para ir desde África a América del Norte? _____
- ¿Cuál océano baña las costas de África, Asia y Oceanía? _____ Escribe su nombre donde corresponde.

6.- Lee atentamente y luego responde

<p>• El Mundo nosotros lo vemos como un Mapa Plano, y lo llamamos Planisferio.</p> 	<p>• Aunque todos sabemos que el Mundo tiene forma de Esfera, un poco achatada en los polos.</p>  <p>Y cuando el Mundo queremos mostrarlo tal como es, es decir, redondo, se representa mediante un Globo Terráqueo.</p>
-----------------------------------------------------------------------------------------------------------------------------------------------------------------------------	-------------------------------------------------------------------------------------------------------------------------------------------------------------------------------------------------------------------------------------------------------------------------------------------------------------------------

¿Cuál de estas dos representaciones de la Tierra nos sirve para ubicar cualquier punto al mismo tiempo?

_____.