



Guía de síntesis

Unidad: I unidad Subsector: Síntesis Nivel: 2° Básico Duración: 25 minutos

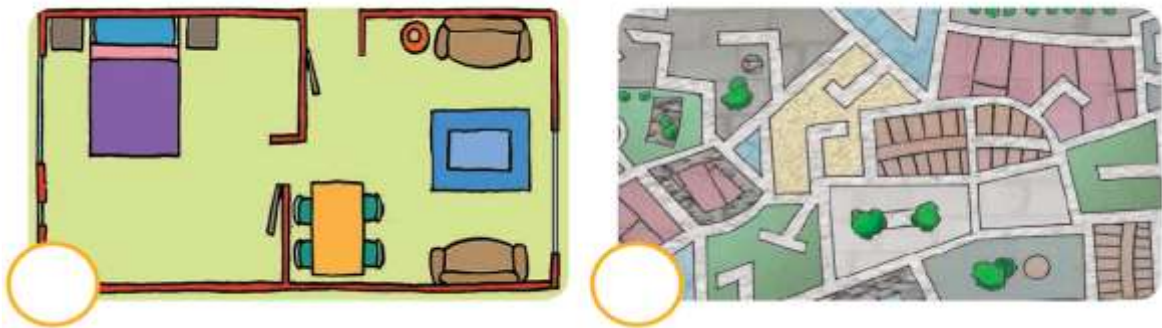
Objetivo aprendizaje: Leer dibujar planos simples de su entorno, utilizando puntos de referencia y, categorías de posición relativa y simbología pictórica (OA 6).
Ubicar Chile, Santiago, la propia región y su capital en el globo terráqueo o en mapas, y describir la ubicación relativa de países limítrofes y de otros países de América del Sur, utilizando los puntos cardinales (OA 7).
Nombre: _____ Curso: _____ Fecha: _____

I. ¿Qué es un plano?

Llamamos plano a la representación reducida o a escala de un lugar mirado desde arriba, como si lo vieras desde un avión.

En un plano se utilizan dibujos simples y símbolos para ubicar cosas en un lugar. Usamos los planos para ubicarnos en lugares, como una ciudad, un barrio e incluso un colegio o una casa.

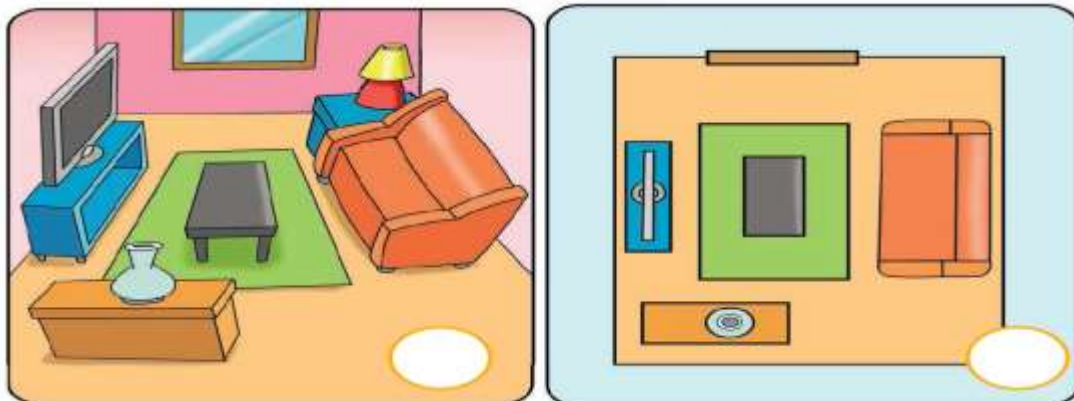
1. Observen las siguientes imágenes y respondan: ¿cuál representa un espacio más extenso? Márquenlo con un ✓.



a. ¿Han necesitado alguna vez usar un plano?

b. ¿Sabrías cómo llegar a un lugar utilizando un plano?

2. Observa las imágenes y luego realiza las actividades.



a. Marca con un ✓ la imagen que corresponda a un plano.

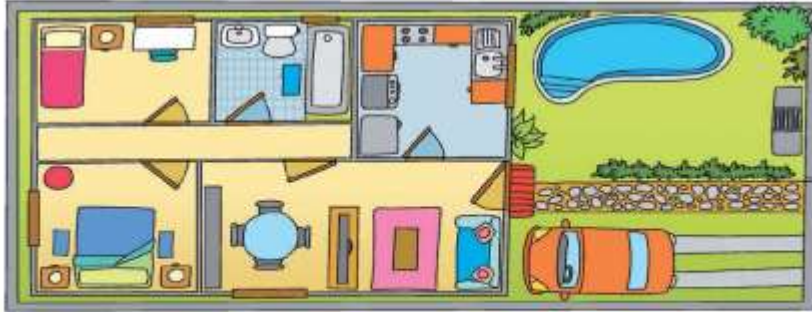
b. ¿Qué objetos de la habitación no están representados en el plano?

c. Dibuja en el plano los objetos que faltan.

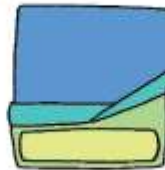

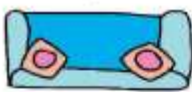
II. Simbología

Para leer un plano, es importante poner atención a la simbología. La simbología es la parte del plano que nos muestra el significado de los símbolos o dibujos que en él se utilizan.

1. Observa el siguiente plano en conjunto con tus compañeros y compañeras, luego completa la simbología escribiendo el significado de los símbolos.



Simbología:



¡Leo un plano usando la simbología!

1. Observa el plano del lugar que escogió Luisa para sus vacaciones y responde:



a. Luisa y su papá fueron a almorzar a Punta de Choros. ¿Cuántos restaurantes hay cerca de ese lugar?

b. A Luisa le gusta mucho el mar y quiere aprender a bucear. ¿Qué símbolo del mapa indica la zona de buceo? Dibújalo.

III. Los puntos cardinales

Para ubicarnos de forma más exacta, tanto en planos como en nuestro entorno, utilizamos los puntos cardinales.

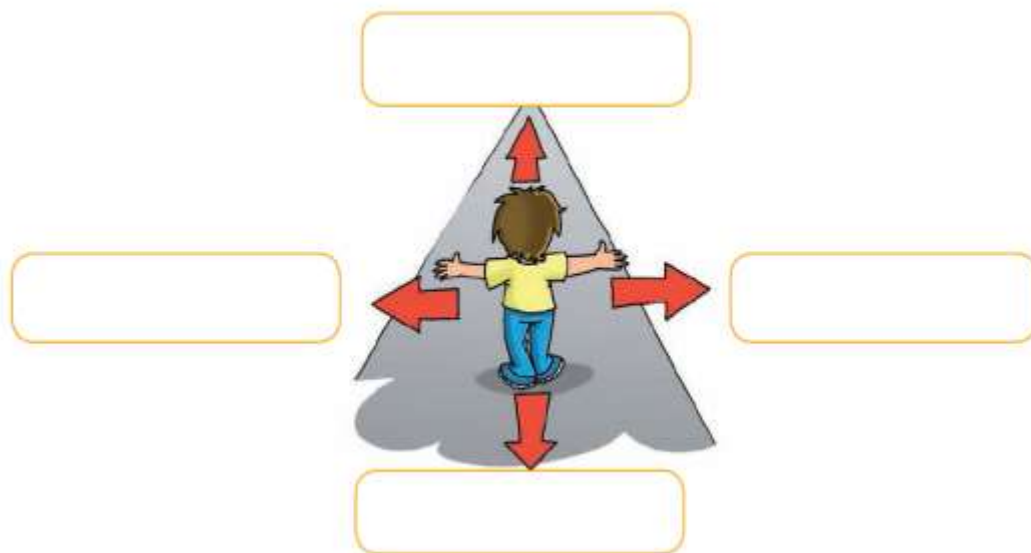
Los puntos cardinales son direcciones relacionadas con la posición en que vemos el sol durante el día.

Los puntos cardinales son cuatro: norte, sur, este y oeste.

Para encontrar los puntos cardinales, debes poner atención al lugar por donde sale el sol.

El lugar por donde sale el sol es el este y el punto contrario, es decir, por donde “se pone el sol”, es el oeste.

1. Observen la imagen y escribe el nombre de los puntos cardinales.



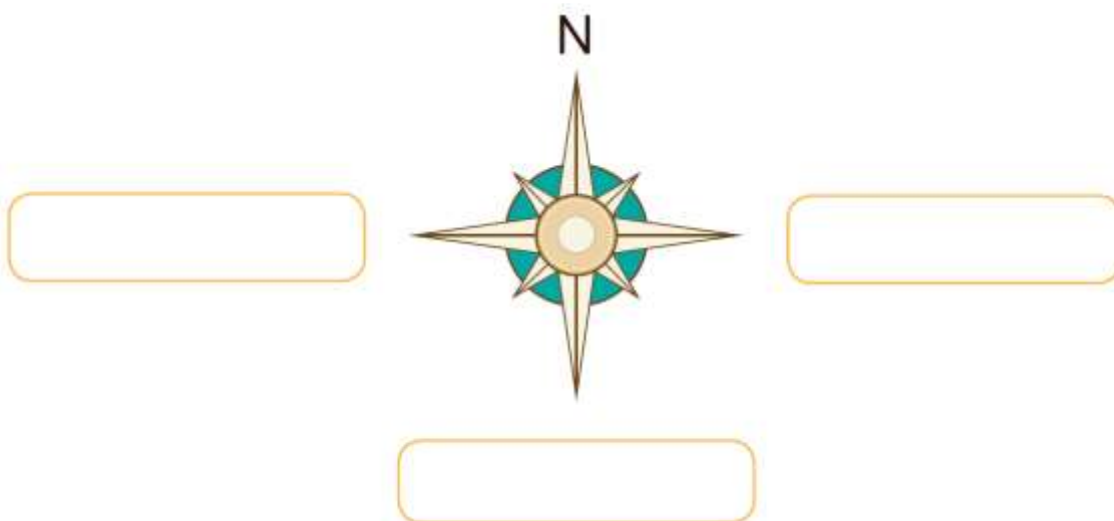
¡Uso los puntos cardinales!

Los puntos cardinales se representan en la rosa de los vientos.

La rosa de los vientos señala hacia donde está orientado el plano o mapa.

También aparece en los mapas.

1. Completa la rosa de los vientos, escribiendo los puntos cardinales en los recuadros.



2. Completa las oraciones, según el plano.

a. La iglesia está al _____ de la plaza.

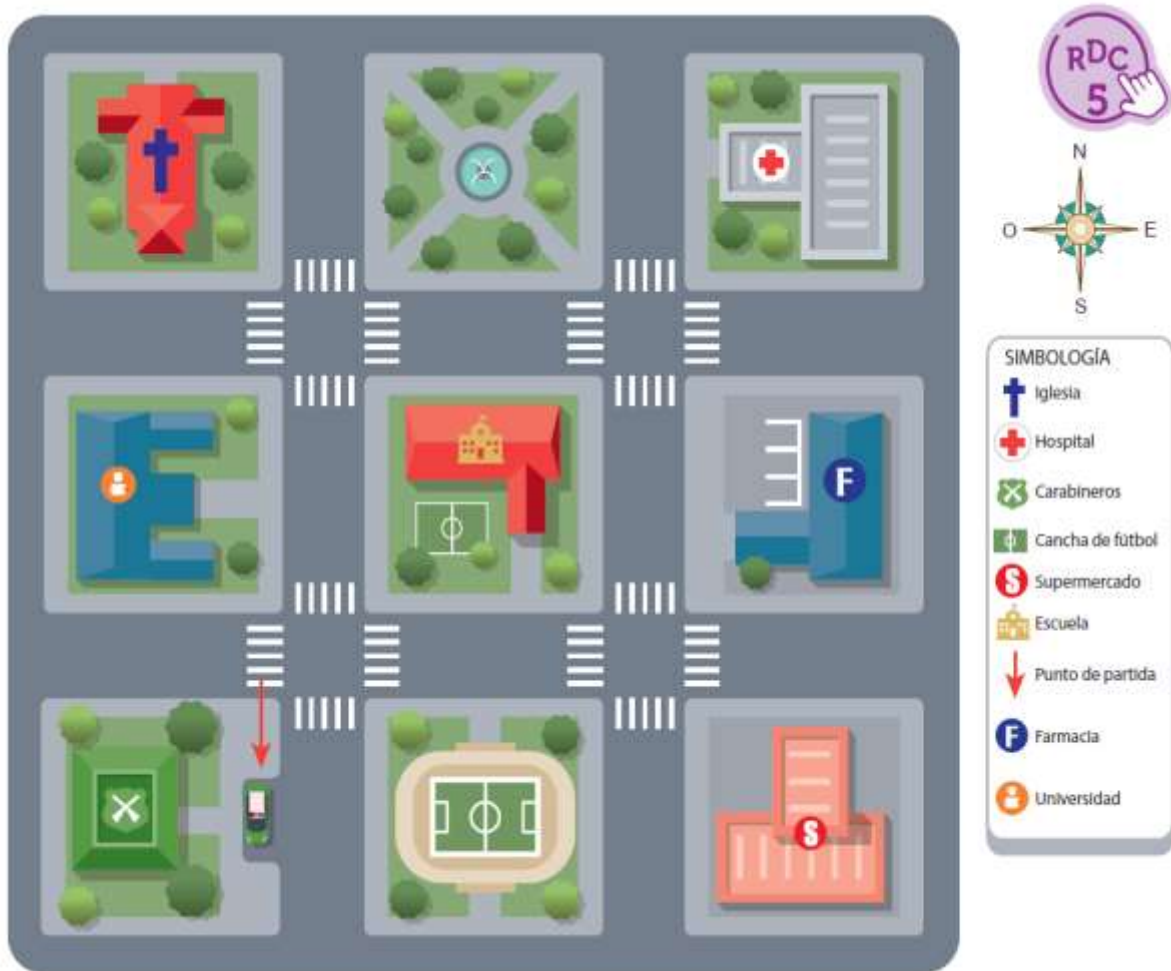
b. El hospital está al _____ de la plaza.

c. La cancha está al _____ del colegio.

d. El supermercado está al _____ de la cancha.

e. Al oeste del supermercado está _____.

f. Al norte de la escuela está _____.



IV. ¿Dónde está Chile en el mapa?

Continentes y océanos en el planisferio

Antes de ubicar a Chile debemos saber que existen 6 continentes y 5 océanos.

Los continentes son: África, América, Asia, Europa, Oceanía y Antártica.

Los océanos son: océano Atlántico, océano Pacífico, océano Índico, océano Ártico y océano Austral.

Chile y sus vecinos

Los límites de Chile

Chile limita al norte con el Perú, al este con Bolivia y Argentina, al oeste con el océano Pacífico y al sur con el Polo Sur.

1. ¿Con cuántos países limita Chile?



2. Observa el mapa con los límites de Chile y completa.

- a) Chile limita al norte con _____.
- b) Chile limita al sur con _____.
- c) Chile limita al este con _____.
- d) Chile limita al oeste con _____.

3. Observar el mapa y completa con los nombres de los países que corresponden.

- a) Al norte de Perú se encuentran _____ y _____.
- b) Al este de Colombia está _____.
- c) Al sur de Venezuela está _____.
- d) Paraguay está al norte de _____.
- e) Uruguay está al este de _____.

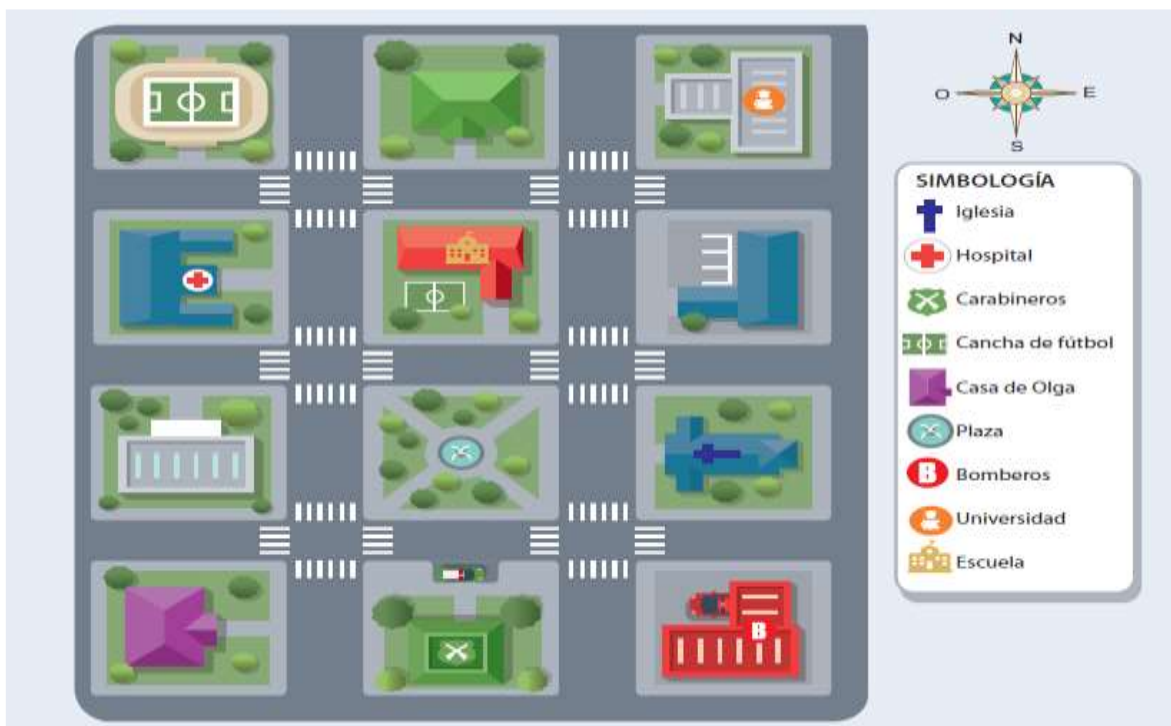
Actividad

1. Define los siguientes conceptos:

a. Plano: _____

b. Simbología: _____

2. Observa el siguiente plano y responde marcando una V, si es verdadera, y una F, si es falsa.



a. ____ La escuela está al oeste del hospital.




b. ____ La casa de Olga está al oeste de carabineros.

c. ____ Los bomberos están al este de carabineros.

d. ____ La plaza está al sur de la escuela.

e. ____ Al sur de la plaza está la universidad.

3. Pinta los países según lo que indica la simbología.

Simbología	
Chile	
Argentina	
Bolivia	
Perú	