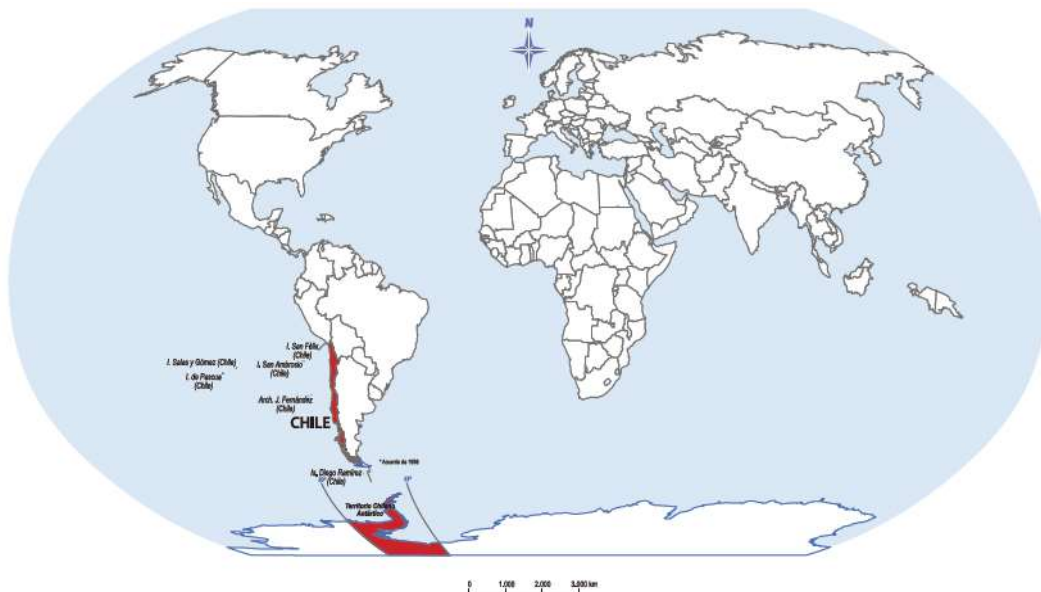


II. Chile en el mundo

1. Observa el planisferio y luego realiza las siguientes actividades.



a. ¿Cuál es el nombre del país que está en rojo? _____

b. Encierra el continente donde se sitúa el país en rojo.

Chile se ubica en América, pero también tiene parte de su territorio en otros dos continentes: en la Antártica y en Oceanía.

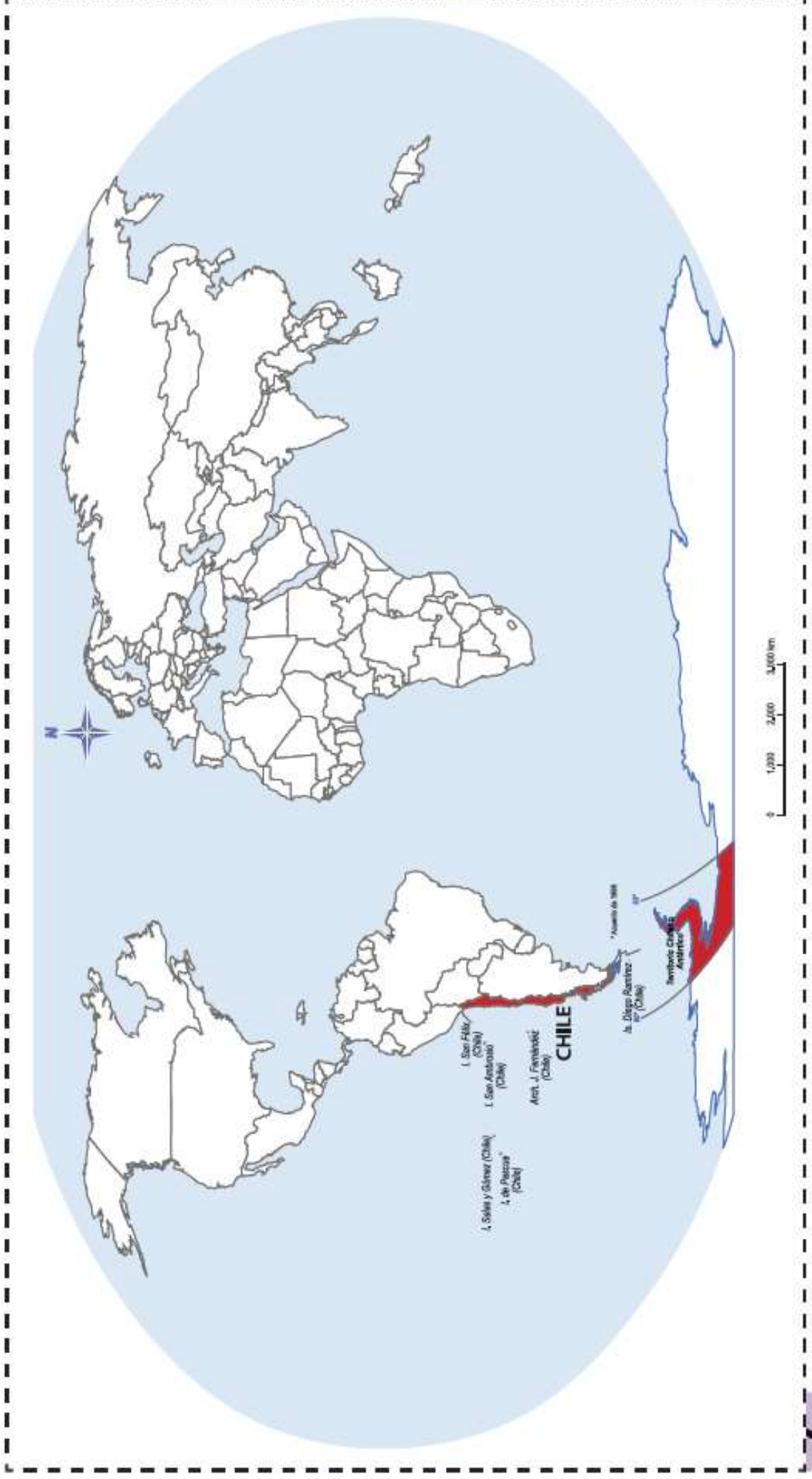
Como Chile tiene territorio en tres continentes, América, Oceanía y Antártica, es un país **tricontinental**.



Ejercicio

1. Utiliza el recortable, pégalo en tu cuaderno y sigue las instrucciones:

- Escribe el nombre de los continentes y los océanos donde corresponda.
- Encierra con color verde el territorio chileno que está en América.
- Encierra con rojo el territorio chileno que está en la Antártica.
- Encierra con azul el territorio chileno que está en Oceanía.



III. Los países que limitan con Chile

Gran parte del territorio chileno se ubica en América.

¿Qué otros países de América conoces? _____

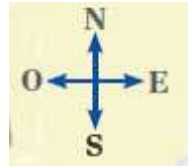
Cada continente está formado por países. En América encontramos países como: Argentina, Perú, Bolivia, Brasil, Paraguay, entre muchos otros. Algunos de estos **limitan con Chile**, es decir, **comparten frontera**.

Observa el siguiente mapa y marca con rojo la frontera de Chile.



Ejercitar

1. Observa el mapa y luego complétalo utilizando los puntos cardinales.



- a. Chile se encuentra al sur de _____.
- b. _____ y _____ se ubican al este de Chile.
- c. _____ está al este de Paraguay.
- d. Perú se ubica al _____ de Brasil.
- e. Chile limita al norte con _____ y al oeste con el océano _____.