



**Guía de aprendizaje**

Unidad: I unidad      Subsector: Síntesis      Nivel: 2° Básico      Duración: 25 minutos

**Objetivo aprendizaje:** Ubicar Chile, Santiago, la propia región y su capital en el globo terráqueo o en mapas, y describir la ubicación relativa de países limítrofes y de otros países de América del Sur, utilizando los puntos cardinales (OA 7).



Nombre: \_\_\_\_\_ Curso: \_\_\_\_\_ Fecha: \_\_\_\_\_

**I. APRENDER**

Una forma de representar espacios más grandes son **los mapas** también representan la superficie terrestre o una parte de ella. En ellos se usan símbolos y colores para informar de las características de la zona representada, como ríos, montañas o carreteras. Asimismo, tienen señalados los puntos cardinales y muestran la realidad a escala.

Los mapas muestran territorios más grandes que los planos, como **países y continentes**.

Conoceremos dos tipos de mapas:

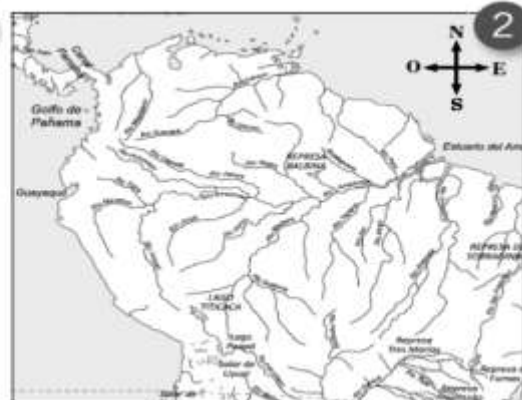
Mapa físico	Mapa político
	
<p>Muestra las características de la superficie de la Tierra, como cerros, cordilleras, valles, ríos y lagos.</p>	<p>Muestra la división de países y regiones, identificando sus límites.</p>

**1. ¿Qué tipo de mapa ocuparían para ubicar?: Comprender**

a. Un volcán: \_\_\_\_\_

b. Los países que limitan con Chile: \_\_\_\_\_

**2. Observa la información que entrega el mapa de cada imagen. Luego, marca con una X la respuesta correcta. Asociar**



La imagen 1 corresponde a un mapa: Físico \_\_\_\_\_ Político \_\_\_\_\_

¿Por qué? \_\_\_\_\_

3. Une con una línea el tipo de representación que necesitarías en cada caso.

Seleccionar

Para construir una casa necesito un...

Para organizar un viaje a otro país necesito un...

Para ubicar la cordillera de los Andes ocuparía un...

Para ubicar un supermercado en mi barrio usaría un...

Plano

Mapa

4.-Observa el mapa y luego realiza las siguientes actividades:

### Mapa de América



a. ¿Qué tipo de mapa es? \_\_\_\_\_

b. Pinta Chile de color rojo.

c. Dibuja de color café la cordillera de los Andes.

5. Observa el mapa y luego complétalo utilizando los puntos cardinales.



- a. Chile se encuentra al sur de \_\_\_\_\_.
- b. \_\_\_\_\_ y \_\_\_\_\_ se ubican al este de Chile.
- c. \_\_\_\_\_ está al este de Paraguay.
- d. Perú se ubica al \_\_\_\_\_ de Brasil.
- e. Chile limita al norte con \_\_\_\_\_ y al oeste con el océano \_\_\_\_\_.