



Guía de Refuerzo, habilidades matemáticas

Nombre: _____ Curso: 2° Básico

Fecha: _____ Duración: 30 minutos


Objetivo: Reforzar pensamiento lógico a través de las secuencias.
Pensar y desarrollar problemas.

Instrucciones:

- ✓ Debes pensar muy bien antes de responder.
- ✓ Si tienes dudas consulta a tus padres.
- ✓ Recuerda que si te sientes cansado puedes descansar periodos de 10 minutos y luego seguir con la actividad.

I. Marcar la alternativa correcta.

Observa la secuencia y responde las siguientes preguntas.

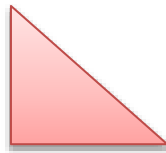


- ¿Cuál es el patrón de las secuencias?

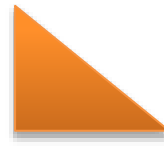
A



b



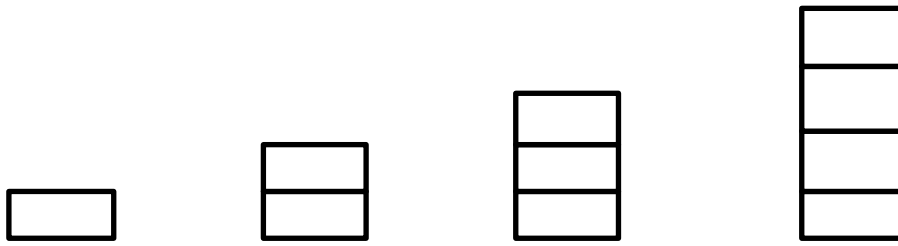
c



- Dibuja cual es el patrón de la secuencia.



Observa: ¿Cuál es el patrón de la secuencia de la imagen?



A

RESTAR 1

B

SUMAR 1

C

SUMAR 2

Observa la secuencia:



- ¿Cuál es el patrón de la secuencia?

a.	Sumar 2
b.	Sumar 3
c.	Restar 2

- Al mantenerse el patrón, que número podría ir en el recuadro?

16

17

18

II. Piensa y responde los siguientes 2 problemas:

1- Josefa es mayor que Luís por 6 años, si Luis tiene 5 años, ¿Cuántos años tienen Josefa?

2- Martín compro 10 manzanas y 9 naranjas, y Andrea compro la misma cantidad de frutas. ¿Cuántas frutas compro Andrea?