



## Guía de Estudio

Unidad: 1 Asignatura: Matemáticas Curso: 1° Básico

Objetivo Aprendizaje: Comparar y ordenar números del 0 al 20, de menor a mayor y/o viceversa.

Componer y descomponer números de 0 al 20 de manera aditiva, en forma concreta, pictórica y simbólica.

Leer números del 0 al 20 y representarlos en forma concreta, pictórica y simbólica

Contar números del 0 al 20 de 1 en 1, de 2 en 2, hacia adelante y hacia atrás, empezando por cualquier número menor que 20.

Nombre: \_\_\_\_\_

Fecha: \_\_\_/\_\_\_/\_\_\_\_\_


Instrucciones:

- ✓ Lee atentamente esta guía.

1.- Antes de escribir los números ejercita en el siguiente link

<https://www.youtube.com/watch?v=CQoLqBBPaTk>

2.- Completa la tabla con los números del 0 al 20



3.- Cuenta de 2 en 2 hasta llegar el 10, pueden ser alguna legumbre o palitos o botones lo que tengas en casa. Siguen las instrucciones del video.

<https://www.youtube.com/watch?v=wREOU1G7Mc>

4.- Luego de realizar la actividad anterior cuenta de dos en dos y escribe los números que corresponden, sigue al conejito.

2 4 6 [ ] [ ] [ ]

14 [ ] [ ] 20

5.- Cuenta los elementos de cada grupo y únelos con el número que corresponda

	0	
	1	
	2	
	3	
	4	
	5	
	6	
	7	
	8	
	9	

6.- Antes de realizar la actividad observa y escucha el siguiente video  
<https://www.youtube.com/watch?v=3yyHrrKzRE>

7.- Escribe el sucesor de cada número:

1 →

6 →

7 →

3 →

2 →

8 →

5 →

4 →

0 →

8.- Escribe el antecesor de cada número

← 1

← 6

← 7

← 3

← 2

← 8

← 5

← 4

← 9

9.- Escribe el antecesor y sucesor de los siguientes números.

\_\_\_\_\_ 10 \_\_\_\_\_

\_\_\_\_\_ 14 \_\_\_\_\_

\_\_\_\_\_ 11 \_\_\_\_\_

\_\_\_\_\_ 17 \_\_\_\_\_

\_\_\_\_\_ 15 \_\_\_\_\_

\_\_\_\_\_ 5 \_\_\_\_\_



10.- Antes de realizar la actividad observa y escucha el siguiente video  
<https://www.youtube.com/watch?v=DaYOJ-JUdds>

11.- Escribe el signo que corresponde >, < o es =

13 \_\_\_\_\_ 2

18 \_\_\_\_\_ 18

12 \_\_\_\_\_ 20

12 \_\_\_\_\_ 16

12.- Ordena los siguientes números de MENOR A MAYOR.

20	10	15	18
7	13	4	

--	--	--	--	--	--	--

13.- Ordena los siguientes números de **MAYOR A MENOR**.

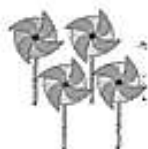

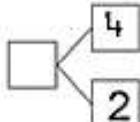
20	16	9	13
5	12	11	

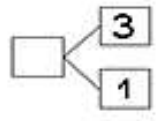
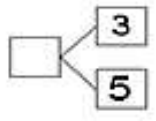
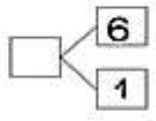
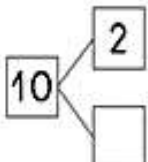
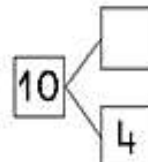
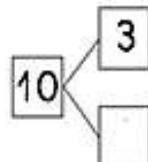
--	--	--	--	--	--	--

14.- Antes de realizar la actividad observa y escucha el siguiente video

<https://www.youtube.com/watch?v=rxlUzZgl7XI>

15.- Completa según corresponda

a)    \_\_\_\_\_ + \_\_\_\_\_ = \_\_\_\_\_

<p>a)  _____ + _____ = _____</p>	<p>b)  _____ + _____ = _____</p>	<p>c)  _____ + _____ = _____</p>
<p>d)  _____ + _____ = _____</p>	<p>e)  _____ + _____ = _____</p>	<p>f)  _____ + _____ = _____</p>