

Guía de Refuerzo Habilidades matemáticas

Nombre: _____ Curso: 1° básico

Fecha: _____ Duración: 30 minutos

Objetivo: Reforzar el pensamiento lógico matemático a través de actividades pictóricas

Instrucciones:

- ✓ Hoy aprenderemos a través de diversos juegos, donde el principal protagonista eres tú.
- ✓ Recuerda estar muy concentrado a la hora de comenzar las actividades.
- ✓ Recuerda que si te sientes cansado, solo debes de decírselo a Mamá y ella te dará un tiempo para descansar.

I. Vamos a partir jugando a sumar, donde debes pensar rápidamente y decir tu resultado. (cálculo mental),



$4 + 6 =$

$3 + 7 =$

$7 + 3 =$

$5 + 5 =$

$1 + 9 =$

$6 + 4 =$

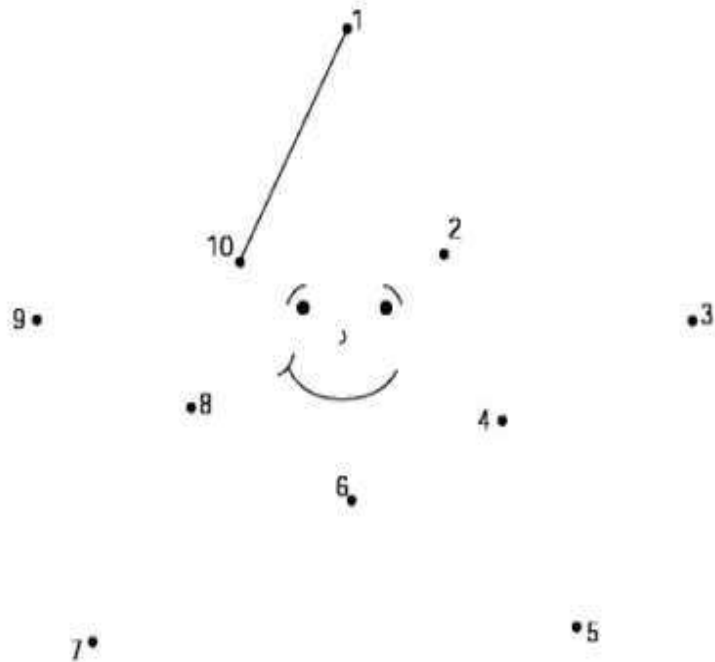
$9 + 1 =$

$2 + 8 =$

II. Ahora vamos a descubrir nuestro dibujo oculto.

~~Cuerpo oculto~~

Une con líneas los números del menor al mayor.









III. Ahora vamos a pensar, con ayuda de tus padres vamos a calcular los resultado





- A continuación debes estar muy atento ya que deberás contestar la siguiente pregunta.

- ¿Cuántas  tiene cada pareja?

1-  +  = 

2-  +  = 

3-  +  = 