



## Guía de Refuerzo

Nombre: \_\_\_\_\_ Curso: \_\_\_\_\_ básico  
Fecha: 23 de marzo Duración: 40 minutos

Objetivo: Reforzar habilidades matemáticas.


Instrucciones:

- ✓ Lee cada instrucción para desarrollar las actividades que se presentan a continuación.
- ✓ Realiza 2 actividades, luego toma un descanso de 15 minutos, cada vez que te sientas cansado debes tomar un break para poder realizar las tareas con éxito.

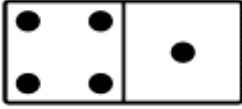
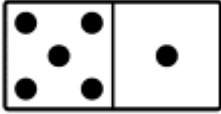
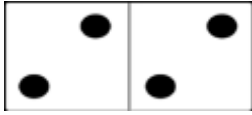
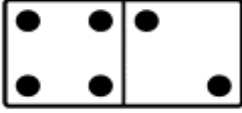

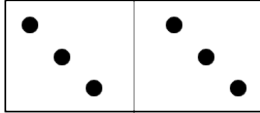

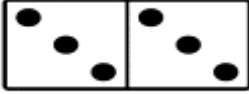


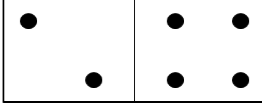

I- Observa las operaciones que aparecen en la columna A, resuélvelas mentalmente y únelas con el resultado que aparece en la columna B.

A	B
$20 + 4$	30
$7 \times 2$	27
$25 - 7$	24
$6 \times 5$	103
$37 - 10$	18
$3 + 100$	9
$3 \times 3$	72
$9 \times 8$	14

II- Pinta las cartas que están repetidas.



III- Pon mucha atención y completa la ficha de dominó que continua.

1	2	3
		
		
		
		

IV- Ahora resolverás problemas para aquellos que toma en consideración las siguientes recomendaciones.

- Comprende el problema. identificando los datos.
- Experimenta (comienza por lo más fácil, pon ejemplos, piensa y practica por ensayo y error la operación que debes realizar.)
- Puedes hacer dibujos.
- Revisa el proceso.

1. Fui al mercado y compre 39 manzanas, el fin de semana me visitaron 5 amigos, cada uno de ellos se comió 2 manzanas. ¿Cuántas manzanas me queda?.



2. Si mi tía me enseñó que 5 multiplicado por 5 es 25, entonces ¿cuánto es 5 por 9?

3. En un jardín hay 3 tipos de flores, 43 rosas, 23 calas y 31 margaritas. ¿ Cuántas flores hay en total en el jardín?

4. En el patio de juegos hay 61 juguetes, si hay 17 autos, 15 muñecas y 20 pelotas.  
¿Cuántos accesorios de cocona hay?